

ΑΡΧΗ 1ΗΣ ΣΕΛΙΔΑΣ
Δ' ΕΣΠΕΡΙΝΩΝ - ΠΑΛΑΙΟ ΣΥΣΤΗΜΑ
ΠΑΝΕΛΛΑΔΙΚΕΣ ΕΞΕΤΑΣΕΙΣ
Δ' ΤΑΞΗΣ ΕΣΠΕΡΙΝΟΥ ΓΕΝΙΚΟΥ ΛΥΚΕΙΟΥ
ΔΕΥΤΕΡΑ 30 ΜΑΪΟΥ 2016 - ΕΞΕΤΑΖΟΜΕΝΟ ΜΑΘΗΜΑ: ΧΗΜΕΙΑ
ΘΕΤΙΚΗΣ ΚΑΤΕΥΘΥΝΣΗΣ (ΠΑΛΑΙΟ ΣΥΣΤΗΜΑ)
ΣΥΝΟΛΟ ΣΕΛΙΔΩΝ: ΠΕΝΤΕ (5)

ΘΕΜΑ Α

Για τις προτάσεις **A1** έως και **A5** να γράψετε στο τετράδιό σας τον αριθμό της πρότασης και, δίπλα, το γράμμα που αντιστοιχεί στη σωστή επιλογή.

- A1.** Ο κύριος κβαντικός αριθμός καθορίζει
- α. το σχήμα του ηλεκτρονιακού νέφους
 - β. το μέγεθος του ηλεκτρονιακού νέφους
 - γ. τον προσανατολισμό του ηλεκτρονιακού νέφους
 - δ. την ιδιοπεριστροφή του ηλεκτρονίου.

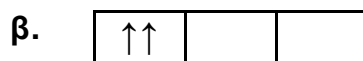
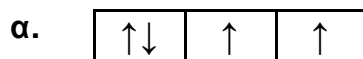
Μονάδες 5

- A2.** Σε ένα από τα παρακάτω ζεύγη αντιδρούν και οι δύο χημικές ενώσεις με NaOH. Να επιλέξετε το σωστό ζεύγος.

- α. CH_3COOH , $\text{C}_6\text{H}_5\text{OH}$
- β. CH_3COOH , CH_3OH
- γ. $\text{C}_6\text{H}_5\text{OH}$, $\text{CH}_3\text{C} \equiv \text{CH}$
- δ. CH_3OH , $\text{CH}_3\text{C} \equiv \text{CH}$

Μονάδες 5

- A3.** Ποια από τις παρακάτω ηλεκτρονιακές δομές παραβιάζει τον κανόνα του Hund;



Μονάδες 5

- A4.** Σε ποιο από τα παρακάτω υδατικά διαλύματα συγκέντρωσης 0,1 M, η τιμή του pH παραμένει σταθερή με την προσθήκη H_2O ίδιας θερμοκρασίας;

- α. CH_3COOH
- β. CH_3NH_2
- γ. HCOONa
- δ. NaNO_3

Μονάδες 5

ΑΡΧΗ 2ΗΣ ΣΕΛΙΔΑΣ
Δ' ΕΣΠΕΡΙΝΩΝ - ΠΑΛΑΙΟ ΣΥΣΤΗΜΑ

- A5.** Δίνεται υδατικό διάλυμα HF 0,1 M. Σε ποια από τις ακόλουθες μεταβολές, παραμένει σταθερός ο βαθμός ιοντισμού του HF;
- Προσθήκη νερού.
 - Προσθήκη αερίου HCl, χωρίς μεταβολή του όγκου.
 - Προσθήκη στερεού NaF, χωρίς μεταβολή του όγκου.
 - Προσθήκη στερεού NaCl, χωρίς μεταβολή του όγκου.

Σε κάθε περίπτωση προσθήκης η θερμοκρασία του διαλύματος διατηρείται σταθερή.

Μονάδες 5

ΘΕΜΑ Β

- B1.** Να χαρακτηρίσετε τις προτάσεις που ακολουθούν, γράφοντας στο τετράδιό σας δίπλα στο γράμμα που αντιστοιχεί σε κάθε πρόταση, τη λέξη **Σωστό**, αν η πρόταση είναι σωστή, ή **Λάθος**, αν η πρόταση είναι λανθασμένη.

- Ο μέγιστος κύριος κβαντικός αριθμός τροχιακού που περιέχει ηλεκτρόνια στο ιόν του ${}_{26}\text{Fe}^{2+}$ είναι 4.
- Το ${}_{20}\text{Ca}$ ανήκει στη δεύτερη ομάδα του Περιοδικού Πίνακα και το ${}_{35}\text{Br}$ στη 16^η ομάδα του Περιοδικού Πίνακα.

(μονάδες 2)

Να αιτιολογήσετε τις απαντήσεις σας.

(μονάδες 4)

Μονάδες 6

- B2.** Να αντιστοιχίσετε κάθε οξύ της στήλης Α με τη συζυγή του βάση της στήλης Β, γράφοντας το γράμμα που αντιστοιχεί σε κάθε οξύ και δίπλα τον αριθμό που αντιστοιχεί στη συζυγή του βάση.

Α	Β
α. HSO_4^-	1. NH_3
β. HSO_3^-	2. H_2SO_4
γ. NH_4^+	3. NH_2^-
δ. NH_3	4. SO_4^{2-}
	5. SO_3^{2-}

Μονάδες 4

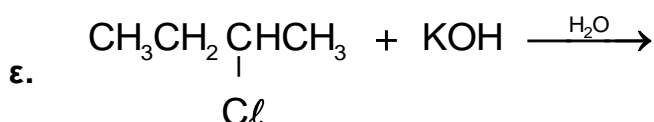
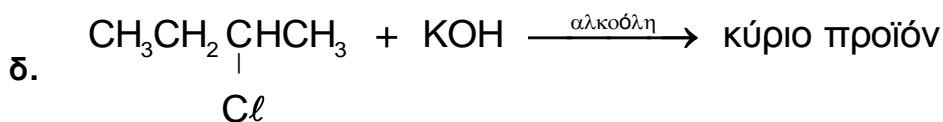
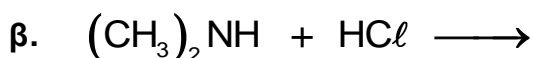
- B3.** Για τα στοιχεία Α, Β, Γ με ατομικούς αριθμούς Ζ, Ζ+1, Ζ+2, αντίστοιχα, δίνονται οι ακόλουθες ενέργειες ιοντισμού σε kJ/mol.

Στοιχείο	E_{i1}	E_{i2}	E_{i3}
Α	2081	3952	6122
Β	496	4562	6910
Γ	738	1451	7733

ΑΡΧΗ 3ΗΣ ΣΕΛΙΔΑΣ
Δ' ΕΣΠΕΡΙΝΩΝ - ΠΑΛΑΙΟ ΣΥΣΤΗΜΑ

- α. Σε ποια ομάδα του Περιοδικού Πίνακα ανήκει το στοιχείο Β; (μονάδα 1)
- β. Να αιτιολογήσετε γιατί η E_{i2} του Β είναι μεγαλύτερη από την E_{i2} του Γ. (μονάδες 3)
- γ. Να κατατάξετε τα στοιχεία Α, Β, Γ κατά αύξουσα ατομική ακτίνα. (μονάδα 1)
- Μονάδες 5**

B4. Να μεταφέρετε στο τετράδιό σας συμπληρωμένες τις χημικές εξισώσεις των παρακάτω αντιδράσεων:

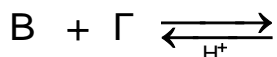


Μονάδες 10

ΘΕΜΑ Γ

Γ1. Κορεσμένη οργανική ένωση Α με μοριακό τύπο $C_5H_{10}O_2$ υδρολύεται και δίνει ένα οξύ Β και μια αλκοόλη Γ. Η Γ έχει την ίδια σχετική μοριακή μάζα (M_r) με το οξύ Β. Η οξειδωση της Γ οδηγεί σε χημική ένωση Δ, η οποία αντιδρά με το Na_2CO_3 και εκλύεται αέριο CO_2 .

- α. Να γράψετε τους συντακτικούς τύπους των ενώσεων Α, Β, Γ, Δ. (μονάδες 8)
- β. Να μεταφέρετε στο τετράδιό σας συμπληρωμένες τις χημικές εξισώσεις των παρακάτω αντιδράσεων:



(μονάδες 4)
Μονάδες 12

Γ2. Ομογενές μίγμα αποτελείται από $CH_3CH=O$ και CH_3CH_2OH και χωρίζεται σε δύο ίσα μέρη.

- Στο 1^ο μέρος προστίθεται αντιδραστήριο Fehling και προκύπτουν 14,3 g καστανέρυθρου ιζήματος.
- Το 2^ο μέρος οξειδώνεται πλήρως με διάλυμα $KMnO_4$ 0,2 M, παρουσία H_2SO_4 , και παράγεται μια μόνο οργανική ένωση μάζας 18 g.

ΑΡΧΗ 4ΗΣ ΣΕΛΙΔΑΣ
Δ' ΕΣΠΕΡΙΝΩΝ - ΠΑΛΑΙΟ ΣΥΣΤΗΜΑ

Να υπολογίσετε την ποσότητα σε mol κάθε συστατικού στο αρχικό μίγμα και τον όγκο του διαλύματος KMnO_4 που απαιτήθηκε για την οξειδωση.

Μονάδες 13

Δίνεται ότι:

- $A_r \text{ Cu} = 63,5$
- $A_r \text{ O} = 16$
- $A_r \text{ C} = 12$
- $A_r \text{ H} = 1$

ΘΕΜΑ Δ

Δίνονται τα υδατικά διαλύματα:

Διάλυμα Y_1	HCl	0,1 M	
Διάλυμα Y_2	HA (ασθενές οξύ)	0,1 M	pH = 4
Διάλυμα Y_3	NH_3	0,1 M	pH = 11
Διάλυμα Y_4	NaOH	0,1 M	

Δ1. Να βρείτε τις τιμές της K_a του HA και της K_b της NH_3 .

Μονάδες 4

Δ2. Με ποια αναλογία όγκων πρέπει να αναμειχθούν τα διαλύματα Y_2 και Y_4 , ώστε να προκύψει ρυθμιστικό διάλυμα Y_5 με pH = 7;

Μονάδες 7

Δ3. Πόσα mL διαλύματος Y_1 πρέπει να προσθέσουμε σε 330 mL του διαλύματος Y_5 , έτσι ώστε να προκύψει νέο ρυθμιστικό διάλυμα, το pH του οποίου θα διαφέρει κατά μία μονάδα από το pH του διαλύματος Y_5 ;

Μονάδες 7

Δ4. Κατά την ανάμειξη ίσων όγκων των διαλυμάτων Y_2 και Y_3 , το διάλυμα που προκύπτει είναι όξινο, βασικό ή ουδέτερο;

(μονάδα 2)

Να αιτιολογήσετε την απάντησή σας χωρίς να υπολογίσετε την τιμή του pH.

(μονάδες 5)

Μονάδες 7

Δίνεται ότι:

- Όλα τα διαλύματα βρίσκονται σε θερμοκρασία $\theta = 25 \text{ }^\circ\text{C}$.
- $K_w = 10^{-14}$
- Τα δεδομένα του προβλήματος επιτρέπουν τις γνωστές προσεγγίσεις.

ΟΔΗΓΙΕΣ (για τους εξεταζομένους)

1. Στο εξώφυλλο να γράψετε το εξεταζόμενο μάθημα. Στο εσώφυλλο πάνω-πάνω να συμπληρώσετε τα ατομικά σας στοιχεία. Στην αρχή των απαντήσεών σας να γράψετε πάνω-πάνω την ημερομηνία και το εξεταζόμενο μάθημα. **Να μην αντιγράψετε** τα θέματα στο τετράδιο και **να μη γράψετε** πουθενά στις απαντήσεις σας το όνομά σας.
2. Να γράψετε το ονοματεπώνυμό σας στο πάνω μέρος των φωτοαντιγράφων, αμέσως μόλις σας παραδοθούν. **Τυχόν σημειώσεις σας πάνω στα θέματα δεν θα βαθμολογηθούν σε καμία περίπτωση.** Κατά την αποχώρησή σας, να παραδώσετε μαζί με το τετράδιο και τα φωτοαντίγραφα.
3. Να απαντήσετε **στο τετράδιό σας** σε όλα τα θέματα **μόνο** με μπλε ή **μόνο** με μαύρο στυλό με μελάνι που δεν σβήνει.
4. Κάθε απάντηση επιστημονικά τεκμηριωμένη είναι αποδεκτή.
5. Διάρκεια εξέτασης: τρεις (3) ώρες μετά τη διανομή των φωτοαντιγράφων.
6. Χρόνος δυνατής αποχώρησης: 10:00 π.μ.

ΣΑΣ ΕΥΧΟΜΑΣΤΕ ΚΑΛΗ ΕΠΙΤΥΧΙΑ

ΤΕΛΟΣ ΜΗΝΥΜΑΤΟΣ