

ΑΡΧΗ 1ΗΣ ΣΕΛΙΔΑΣ - Γ΄ ΗΜΕΡΗΣΙΩΝ

ΕΠΑΝΑΛΗΠΤΙΚΕΣ ΠΑΝΕΛΛΗΝΙΕΣ ΕΞΕΤΑΣΕΙΣ

Γ΄ ΤΑΞΗΣ ΗΜΕΡΗΣΙΟΥ ΓΕΝΙΚΟΥ ΛΥΚΕΙΟΥ

ΤΕΤΑΡΤΗ 13 ΙΟΥΝΙΟΥ 2012

ΕΞΕΤΑΖΟΜΕΝΟ ΜΑΘΗΜΑ: ΦΥΣΙΚΗ

ΘΕΤΙΚΗΣ ΚΑΙ ΤΕΧΝΟΛΟΓΙΚΗΣ ΚΑΤΕΥΘΥΝΣΗΣ

ΣΥΝΟΛΟ ΣΕΛΙΔΩΝ: ΟΚΤΩ (8)

**ΘΕΜΑ Α**

Στις ημιτελείς προτάσεις Α1-Α4 να γράψετε στο τετράδιό σας τον αριθμό της πρότασης και δίπλα το γράμμα που αντιστοιχεί στη φράση, η οποία τη συμπληρώνει σωστά.

Α1. Σφαίρα, μάζας  $m_1$ , κινούμενη με ταχύτητα  $\vec{v}_1$ , συγκρούεται μετωπικά και ελαστικά με ακίνητη σφαίρα μάζας  $m_2$ . Οι ταχύτητες  $\vec{v}'_1$  και  $\vec{v}'_2$  των σφαιρών μετά την κρούση

- α. έχουν πάντα την ίδια φορά
- β. σχηματίζουν μεταξύ τους γωνία  $90^\circ$
- γ. έχουν πάντα αντίθετη φορά
- δ. έχουν πάντα την ίδια διεύθυνση.

**Μονάδες 5**

Α2. Σε γραμμικό ελαστικό μέσο έχει δημιουργηθεί στάσιμο κύμα. Μερικοί διαδοχικοί δεσμοί ( $\Delta_1, \Delta_2, \Delta_3$ ) και μερικές διαδοχικές κοιλιές ( $K_1, K_2, K_3$ ) του στάσιμου κύματος φαίνονται στο σχήμα.



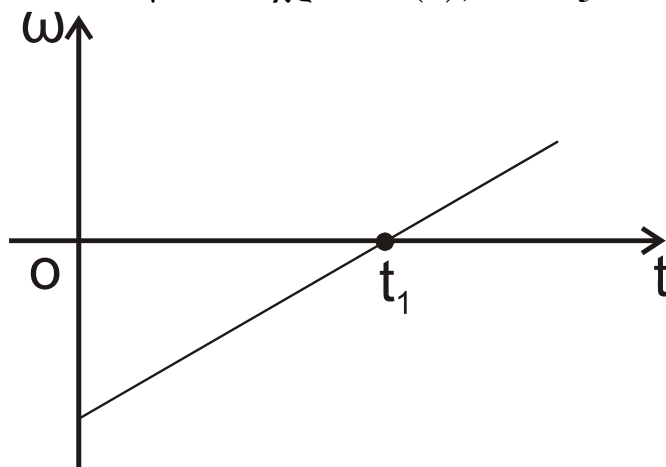
Αν  $\lambda$  το μήκος κύματος των κυμάτων που δημιούργησαν το στάσιμο κύμα, τότε η απόσταση ( $\Delta_1 K_2$ ) είναι

- α.  $\lambda$
- β.  $3\frac{\lambda}{4}$
- γ.  $\frac{\lambda}{2}$
- δ.  $3\frac{\lambda}{2}$ .

**Μονάδες 5**

## ΑΡΧΗ 2ΗΣ ΣΕΛΙΔΑΣ - Γ΄ ΗΜΕΡΗΣΙΩΝ

**A3.** Στερεό σώμα στρέφεται γύρω από σταθερό άξονα που διέρχεται από το κέντρο μάζας του. Η γωνιακή ταχύτητα ( $\omega$ ) μεταβάλλεται με το χρόνο ( $t$ ), όπως στο σχήμα:



Η συνισταμένη των ροπών που ασκούνται στο σώμα:

- α. είναι μηδέν τη χρονική στιγμή  $t_1$
- β. είναι σταθερή και διάφορη του μηδενός
- γ. είναι σταθερή και ίση με το μηδέν
- δ. αυξάνεται με το χρόνο.

**Μονάδες 5**

**A4.** Σε μία φθίνουσα μηχανική ταλάντωση η δύναμη αντίστασης έχει τη μορφή  $F_{αντ} = -bv$ . Αρχικά η σταθερά απόσβεσης έχει τιμή  $b_1$ . Στη συνέχεια η τιμή της γίνεται  $b_2$  με  $b_2 > b_1$ . Τότε:

- α. Το πλάτος της ταλάντωσης μειώνεται πιο γρήγορα με το χρόνο και η περίοδός της παρουσιάζει μικρή μείωση.
- β. Το πλάτος της ταλάντωσης αυξάνεται πιο γρήγορα με το χρόνο και η περίοδός της παρουσιάζει μικρή αύξηση.
- γ. Το πλάτος της ταλάντωσης μειώνεται πιο γρήγορα με το χρόνο και η περίοδός της παρουσιάζει μικρή αύξηση.
- δ. Το πλάτος της ταλάντωσης αυξάνεται πιο γρήγορα με το χρόνο και η περίοδός της παρουσιάζει μικρή μείωση.

**Μονάδες 5**

ΑΡΧΗ 3ΗΣ ΣΕΛΙΔΑΣ - Γ΄ ΗΜΕΡΗΣΙΩΝ

**A5.** Να γράψετε στο τετράδιό σας το γράμμα κάθε πρότασης και δίπλα σε κάθε γράμμα τη λέξη **Σωστό**, για τη σωστή πρόταση, και τη λέξη **Λάθος**, για τη λανθασμένη.

- α. Το ρεύμα σε μία κεραία παραγωγής ηλεκτρομαγνητικών κυμάτων γίνεται μέγιστο, όταν τα φορτία στα άκρα της κεραίας μηδενίζονται.
- β. Οι ακτίνες Χ εκπέμπονται σε αντιδράσεις πυρήνων και σε διασπάσεις στοιχειωδών σωματιδίων.
- γ. Το πλάτος ενός αρμονικού κύματος εξαρτάται από το μήκος κύματος  $\lambda$  του κύματος αυτού.
- δ. Η ροπή αδράνειας ως προς άξονα ενός στερεού έχει τη μικρότερη τιμή της, όταν ο άξονας αυτός διέρχεται από το κέντρο μάζας του στερεού.
- ε. Μονάδα μέτρησης του ρυθμού μεταβολής της στροφορμής είναι και το  $1\text{N} \cdot \text{m}$ .

**Μονάδες 5**

**ΘΕΜΑ Β**

**B1.** Αυτοκίνητο με ταχύτητα  $v_A = \frac{v}{10}$  (όπου  $v$  η ταχύτητα του ήχου ως προς τον ακίνητο αέρα) κινείται ευθύγραμμα προς ακίνητο περιπολικό. Προκειμένου να ελεγχθεί η ταχύτητα του αυτοκινήτου εκπέμπεται από το περιπολικό ηχητικό κύμα συχνότητας  $f_1$ . Το κύμα, αφού ανακλαστεί στο αυτοκίνητο, επιστρέφει στο περιπολικό με συχνότητα  $f_2$ . Ο λόγος των συχνοτήτων  $\frac{f_2}{f_1}$  είναι:

α.  $\frac{11}{9}$                       β.  $\frac{11}{10}$                       γ.  $\frac{9}{11}$

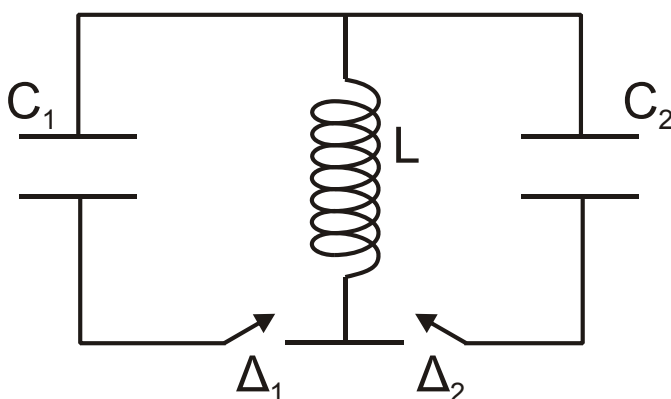
Να επιλέξετε τη σωστή απάντηση (μονάδες 2).

Να δικαιολογήσετε την επιλογή σας (μονάδες 6).

**Μονάδες 8**

ΑΡΧΗ 4ΗΣ ΣΕΛΙΔΑΣ - Γ΄ ΗΜΕΡΗΣΙΩΝ

**B2.** Στο ιδανικό κύκλωμα L-C του σχήματος έχουμε αρχικά τους διακόπτες  $\Delta_1$  και  $\Delta_2$  ανοικτούς. Οι πυκνωτές χωρητικότητας  $C_1$  και  $C_2$  έχουν φορτιστεί μέσω πηγών συνεχούς τάσης με φορτία  $Q_1=Q_2=Q$ . Τη χρονική στιγμή  $t_0=0$  ο διακόπτης  $\Delta_1$  κλείνει, οπότε στο κύκλωμα L- $C_1$  έχουμε αμείωτη ηλεκτρική ταλάντωση. Τη χρονική στιγμή  $t_1 = \frac{7T_1}{4}$ , όπου  $T_1$  η περίοδος της ταλάντωσης του κυκλώματος L- $C_1$ , ο διακόπτης  $\Delta_1$  ανοίγει και ταυτόχρονα κλείνει ο διακόπτης  $\Delta_2$ . Δίνεται ότι  $C_2 = 2C_1$ .



Το μέγιστο φορτίο που θα αποκτήσει ο πυκνωτής χωρητικότητας  $C_2$  κατά τη διάρκεια της ηλεκτρικής ταλάντωσης του κυκλώματος L- $C_2$  είναι:

α.  $\frac{3Q}{2}$       β.  $\frac{Q}{\sqrt{3}}$       γ.  $\sqrt{3}Q$

Να επιλέξετε τη σωστή απάντηση (μονάδες 2).

Να δικαιολογήσετε την επιλογή σας (μονάδες 6).

**Μονάδες 8**

**B3.** Υλικό σημείο εκτελεί ταυτόχρονα δύο απλές αρμονικές ταλαντώσεις, γύρω από την ίδια θέση ισορροπίας και στην ίδια διεύθυνση. Οι ταλαντώσεις περιγράφονται από τις σχέσεις:

$$y_1 = A \eta \mu \left( \omega t + \frac{\pi}{3} \right), \quad y_2 = \sqrt{3} A \eta \mu \left( \omega t - \frac{\pi}{6} \right).$$

## ΑΡΧΗ 5ΗΣ ΣΕΛΙΔΑΣ - Γ΄ ΗΜΕΡΗΣΙΩΝ

Αν  $E_1$ ,  $E_2$ ,  $E_{ολ}$  είναι οι ενέργειες ταλάντωσης για την πρώτη, για τη δεύτερη και για τη συνισταμένη ταλάντωση, τότε ισχύει:

**α.**  $E_{ολ} = E_1 - E_2$       **β.**  $E_{ολ} = E_1 + E_2$       **γ.**  $E_{ολ}^2 = E_1^2 + E_2^2$

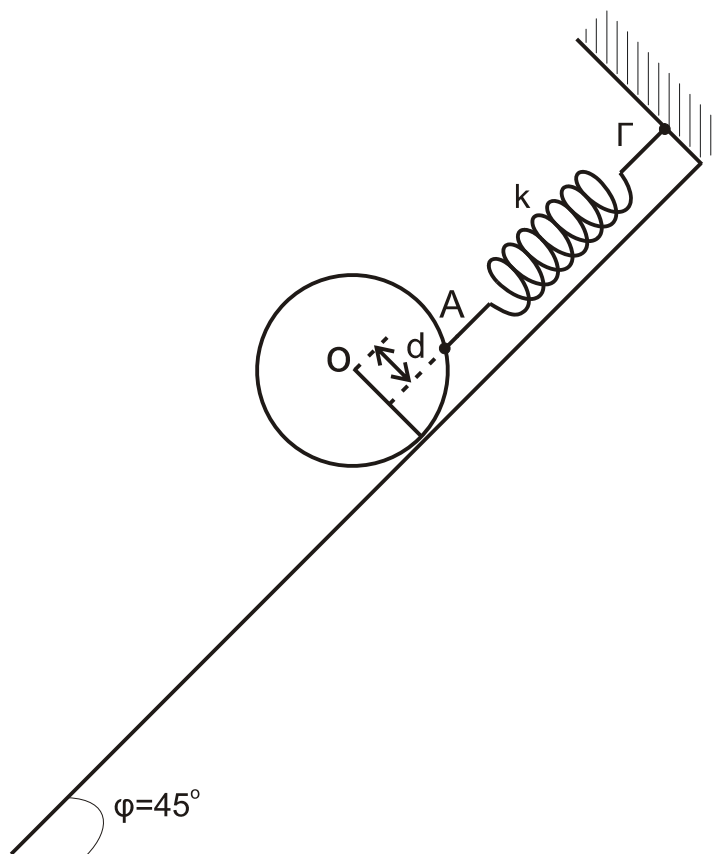
Να επιλέξετε τη σωστή απάντηση (μονάδες 2).

Να δικαιολογήσετε την επιλογή σας (μονάδες 7).

**Μονάδες 9**

### **ΘΕΜΑ Γ**

Συμπαγής ομογενής δίσκος, μάζας  $M=2\sqrt{2}$  kg και ακτίνας  $R=0,1$  m, είναι προσδεμένος σε ιδανικό ελατήριο, σταθεράς  $k=100$  N/m στο σημείο A και ισορροπεί πάνω σε κεκλιμένο επίπεδο, που σχηματίζει γωνία  $\varphi=45^\circ$  με το οριζόντιο επίπεδο, όπως στο σχήμα. Το ελατήριο είναι παράλληλο στο κεκλιμένο επίπεδο και ο άξονας του ελατηρίου απέχει απόσταση  $d=\frac{R}{2}$  από το κέντρο (O) του δίσκου. Το άλλο άκρο του ελατηρίου είναι στερεωμένο ακλόνητα στο σημείο Γ.



ΤΕΛΟΣ 5ΗΣ ΑΠΟ 8 ΣΕΛΙΔΕΣ

ΑΡΧΗ 6ΗΣ ΣΕΛΙΔΑΣ - Γ΄ ΗΜΕΡΗΣΙΩΝ

**Γ1.** Να υπολογίσετε την επιμήκυνση του ελατηρίου.

**Μονάδες 6**

**Γ2.** Να υπολογίσετε το μέτρο της στατικής τριβής και να προσδιορίσετε την κατεύθυνσή της.

**Μονάδες 6**

Κάποια στιγμή το ελατήριο κόβεται στο σημείο Α και ο δίσκος αμέσως κυλιέται, χωρίς να ολισθαίνει, κατά μήκος του κεκλιμένου επιπέδου.

**Γ3.** Να υπολογίσετε την επιτάχυνση του κέντρου μάζας του δίσκου.

**Μονάδες 6**

**Γ4.** Να υπολογίσετε τη στροφορμή του δίσκου ως προς τον άξονα περιστροφής του, όταν το κέντρο μάζας του έχει μετακινηθεί κατά διάστημα  $s=0,3\sqrt{2}$  m στη διεύθυνση του κεκλιμένου επιπέδου.

**Μονάδες 7**

Δίνονται: η ροπή αδράνειας ομογενούς συμπαγούς δίσκου ως προς άξονα που διέρχεται κάθετα από το κέντρο του

$$I = \frac{1}{2}MR^2, \text{ η επιτάχυνση της βαρύτητας } g=10\text{m/s}^2, \eta\mu 45^\circ = \frac{\sqrt{2}}{2}.$$

**ΘΕΜΑ Δ**

Σε λείο οριζόντιο επίπεδο σφαίρα μάζας  $m_1=m=1\text{kg}$ , κινούμενη με ταχύτητα  $v=\frac{4}{3}$  m/s, συγκρούεται ελαστικά

αλλά όχι κεντρικά με δεύτερη όμοια σφαίρα μάζας  $m_2=m$ , που είναι αρχικά ακίνητη. Μετά την κρούση οι σφαίρες

έχουν ταχύτητες μέτρων  $v_1$  και  $v_2 = \frac{v_1}{\sqrt{3}}$ , αντίστοιχα.

**Δ1.** Να βρείτε τη γωνία  $\varphi$  που σχηματίζει το διάνυσμα της ταχύτητας  $\underline{v_2}$  με το διάνυσμα της ταχύτητας  $\underline{v_1}$ .

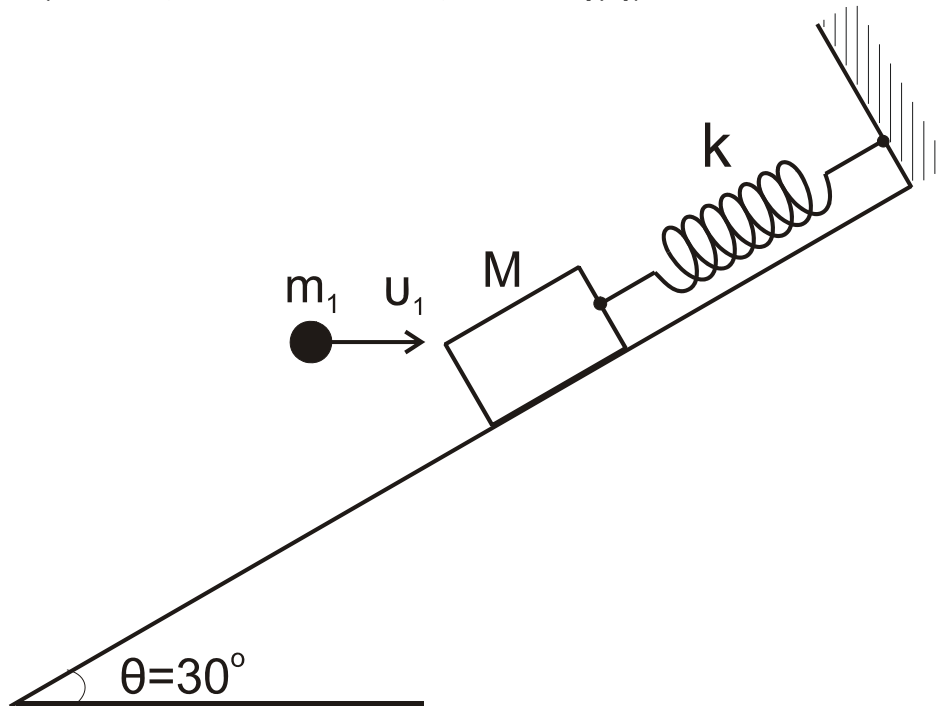
**Μονάδες 8**

ΑΡΧΗ 7ΗΣ ΣΕΛΙΔΑΣ - Γ΄ ΗΜΕΡΗΣΙΩΝ

**Δ2.** Να υπολογίσετε τα μέτρα των ταχυτήτων  $v_1$  και  $v_2$ .

**Μονάδες 4**

Σώμα μάζας  $M=3m$  ισορροπεί δεμένο στο άκρο ελατηρίου, σταθεράς  $k=100 \text{ N/m}$ , που βρίσκεται κατά μήκος κεκλιμένου επιπέδου γωνίας  $\theta = 30^\circ$ , όπως στο σχήμα.



Η σφαίρα, μάζας  $m_1$ , κινούμενη οριζόντια με την ταχύτητα  $\underline{u}_1$ , σφηνώνεται στο σώμα  $M$ .

**Δ3.** Να βρείτε τη μεταβολή της κινητικής ενέργειας του συστήματος των σωμάτων  $(M, m_1)$  κατά την κρούση.

**Μονάδες 6**

**Δ4.** Δεδομένου ότι το συσσωμάτωμα  $(M, m_1)$  μετά την κρούση εκτελεί απλή αρμονική ταλάντωση, να βρείτε το πλάτος  $A$  της ταλάντωσης αυτής.

**Μονάδες 7**

Δίνονται: η επιτάχυνση βαρύτητας  $g=10 \text{ m/s}^2$ ,  $\eta\mu 30^\circ = \frac{1}{2}$ ,

$$\sigma\upsilon\nu 30^\circ = \frac{\sqrt{3}}{2}.$$

## ΑΡΧΗ 8ΗΣ ΣΕΛΙΔΑΣ - Γ΄ ΗΜΕΡΗΣΙΩΝ

### ΟΔΗΓΙΕΣ (για τους εξεταζομένους)

1. Στο τετράδιο να γράψετε μόνο τα προκαταρκτικά (ημερομηνία, εξεταζόμενο μάθημα). **Να μην αντιγράψετε** τα θέματα στο τετράδιο.
2. Να γράψετε το ονοματεπώνυμό σας στο πάνω μέρος των φωτοαντιγράφων αμέσως μόλις σας παραδοθούν. **Δεν επιτρέπεται να γράψετε** καμιά άλλη σημείωση. Κατά την αποχώρησή σας να παραδώσετε μαζί με το τετράδιο και τα φωτοαντίγραφα.
3. Να απαντήσετε **στο τετράδιό σας** σε όλα τα θέματα.
4. Να γράψετε τις απαντήσεις σας **μόνο** με μπλε ή **μόνο** με μαύρο στυλό. Μπορείτε να χρησιμοποιήσετε μολύβι μόνο για σχέδια, διαγράμματα και πίνακες.
5. Να μη χρησιμοποιήσετε χαρτί μιλιμετρέ.
6. Κάθε απάντηση τεκμηριωμένη είναι αποδεκτή.
7. Διάρκεια εξέτασης: τρεις (3) ώρες μετά τη διανομή των φωτοαντιγράφων.
8. Χρόνος δυνατής αποχώρησης: 18:30.

**ΚΑΛΗ ΕΠΙΤΥΧΙΑ**

**ΤΕΛΟΣ ΜΗΝΥΜΑΤΟΣ**